

长郡教育集团初中课程中心

2018—2019 学年度初三第二次限时检测

历史

命题人:罗玉林




考试时间:2018年11月05日14:00—15:00

注意事项:

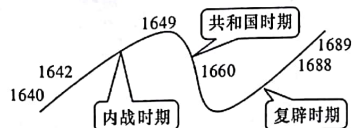
1. 答题前,请考生先将自己的姓名、准考证号填写清楚,并认真核对条形码上的姓名、准考证号、考场和座位号;
2. 必须在答题卡上答题,在草稿纸、试题卷上答题无效;
3. 答题时,请考生注意各大大题题号后面的答题提示;
4. 请勿折叠答题卡,保持字体工整、笔迹清晰、卡面清洁;
5. 答题卡上不得使用涂改液、涂改胶和贴纸;
6. 本学科为闭卷考试,全卷共四道大题,考试时量60分钟,满分100分。

一、单项选择题(本大题共18小题,每小题2分,共36分。在下列各题的四个选项中,只有一项是最符合题意的)

1. 当你作为博物馆的解说员介绍文艺复兴时期的但丁的作品时,下列作品中应选择的是  
A.《最后的晚餐》 B.《哈姆雷特》  
C.《神曲》 D.《天方夜谭》
2. 第一国际成立的时间为  
A. 1848年 B. 1864年 C. 1870年 D. 1871年
3. 下表中的古老文字形成于公元前3000年左右的尼罗河流域,它曾记载了哪一文明古国的历史

古老文字			
初始的或引申的意思	鸟	鱼	谷物

- A. 古代埃及 B. 古巴比伦王国  
C. 古代印度 D. 中国
4. 下面的示意图反映了某国的历史进程。结合所学知识,判断下列说法不正确的是



- A. 1640年,该国爆发了资产阶级革命

- B. 1649年,该国国王被推上断头台  
C. 1688年,该国发生宫廷政变,推翻了复辟王朝的专制统治  
D. 1689年,该国通过了《权利法案》,建立了资产阶级共和国
5. 下列法律文献中,不属于罗马《民法大全》的是  
A.《法学汇纂》 B.《查士丁尼法典》  
C.《新法典》 D.《民法典》
  6. 作为资产阶级政治家,华盛顿和林肯对历史发展进程所起到的共同影响是  
A. 赢得了民族独立 B. 维护了国家统一  
C. 推翻了封建帝制 D. 促进了资本主义发展

7. 下表为1840—1920年英国农业人口占全国总人口的百分比变化表

年份	1840年	1870年	1900年	1920年
百分比	22	14.8	8.4	7.1

- 导致表格中农业人口百分比变化的主要原因是
- A. 圈地运动蓬勃进行 B. 殖民帝国开始建立  
C. 工业化进程的影响 D. 资产阶级革命成功
8. 下列有关新航路开辟的说法,叙述正确的一组信息是  
①达·伽马开辟从西方到达印度的航线  
②最早证明地圆学说的航行是麦哲伦船队的航行  
③新航路开辟后世界开始连成一个整体  
④新航路开辟后太平洋沿岸的工商业经济迅速发展  
A. ①②③④ B. ①③④ C. ①②③ D. ②③④
  9. 穆罕默德所完成的双重历史使命是  
①创立伊斯兰教 ②出走麦地那 ③建立统一的阿拉伯国家 ④建立政教合一政权  
A. ②④ B. ①② C. ①④ D. ①③
  10. 西欧城市兴起的主要历史意义是  
A. 加速了拜占庭帝国的灭亡  
B. 促进了西欧封建等级制度的形成  
C. 加速了东西方文明的传播  
D. 催生了市民阶级,为资本主义的兴起准备了条件
  11. 12世纪晚期,源赖朝从朝廷取得“征夷大将军”称号,于镰仓置幕府,武士贵族专权自此始,天皇形同虚设。这一事件在日本历史上的影响是  
A. 大化改新取得胜利 B. 武士集团开始形成  
C. 日本进入幕府统治时期 D. 天皇大权独揽

学 号  
姓 名  
班 级  
校 学

题 答 要 点 不 内 线 封 密

12. 早期殖民过程中,拥有强大的海军舰队,自称“无敌舰队”的国家是  
A. 英国 B. 法国 C. 葡萄牙 D. 西班牙
13. 1868年日本改革的主要措施中,最具有前瞻性和战略性眼光的举措是  
A. 废藩置县 B. 发展近代工业  
C. 建立常备军 D. 实行义务教育
14. 探究历史发展的共性是我们学习历史的任务之一,请找出俄国1861年改革与日本明治维新的共同点  
A. 推翻旧政权 B. 改革具有彻底性  
C. 改变了社会性质 D. 提倡自由平等
15. 1640年英国资产阶级革命和1789年法国大革命发生的共同背景不包括  
A. 资本主义经济发展 B. 封建王权专制独行  
C. 资产阶级力量壮大 D. 人文主义思想盛行
16. 下列国家不属于玻利瓦尔带领南美人民解放的是  
A. 阿根廷 B. 哥伦比亚  
C. 委内瑞拉 D. 厄瓜多尔
17. 马克思说:“希腊的内部极盛时期是伯里克利时代,外部极盛时期是亚历山大时代。”希腊“外盛时期”对世界文明产生深远影响的是  
A. 促进了海外贸易的发展  
B. 推动了奴隶制民主政治的发展  
C. 促进了基督教的传播  
D. 促进了东西方文化的交汇

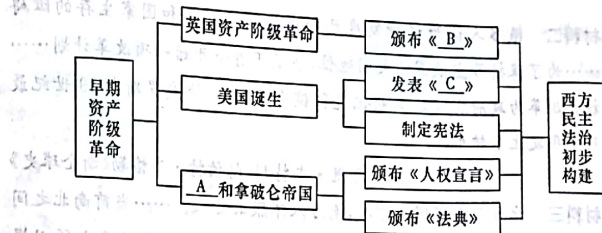
18. 罗马共和国在扩张的过程中,大量被征服地区的战俘和人口被掠夺为奴隶,奴隶成为罗马共和国的主要生产者。后来加速罗马共和国衰落的是  
A. 与迦太基战争的失败 B. 斯巴达克起义  
C. 蛮族人的入侵 D. 凯撒独揽大权

二、判断正误题(本大题共5小题,每小题2分,共10分。判断下列说法是否正确,正确的在答题卡上将“T”涂黑,错误的在答题卡上将“F”涂黑)

19. 阿拉伯文学最著名的代表作是《伊索寓言》(又译《一千零一夜》),是根据阿拉伯民间故事汇集整理而成的一部故事集。
20. “人的发现”和“世界的发现”分别指文艺复兴和新航路的开辟。
21. 英、法、美资产阶级革命爆发的根本原因都是封建专制阻碍了资本主义经济的发展。
22. 罗马教会的地位在查理曼帝国时期得到提高。
23. 俄国伟大作家列夫·托尔斯泰完成了《战争与和平》《安娜·卡列尼娜》和《复活》等不朽名著。列宁称他为“俄国革命的镜子”。

三、材料解析题(本大题共3小题,24题10分,25题、26题各15分,共40分)

24. 构建“学科思维导图”,有助于形成“关联化知识”“理解性记忆”“结构化思考”“可视化思维”的历史学习能力。下面是某同学,根据所学世界近代史的知识,制作的“西方民主政治初步构建”的学科思维导图。请根据材料,结合所学知识,回答问题。



请回答:  
(1)马克思称之为“世界上第一部人权宣言”的是哪一法律文献?(请写出标号及具体名称)(2分)为巩固革命成果,辛亥革命后,中国民族资产阶级又做了哪些努力?(2分)

(2)“将国王的权力关进了笼子里”的是哪一法律文献?(写名称)(2分)基于此法律该国开始确立起什么政治制度?(2分)

(3)美国资产阶级革命过程中制定的宪法体现了启蒙思想家提出的什么原则?(2分)

25. 阅读下列材料, 回答问题。

材料一 当日本 19 世纪中叶开始面临西方资本主义国家的侵略威胁时, 能够以这些国家为榜样, 顺利地实现了本国的社会变革, 走上独立的资本主义发展道路。

——《世界史·近代史稿》

材料二 很多人认为这种制度已经成为经济发展和国家生存的障碍……为了保持沙皇俄国的大国地位, 沙皇正着手开始一项改革计划……社会改革为政府发起的工业化进程铺平了道路, 使俄罗斯在 19 世纪最后十年发生了转型。

——杰里·本特利、赫伯特·齐格勒《新全球史》

材料三 北方人看不惯南方人, 南方人不服北方人。……当前南北之间的矛盾不是别的, 而是两种社会制度之间的斗争。这个斗争之所以爆发, 是因为这两种制度不能再在北美大陆上和平共处了。

——马克思

请回答:

(1) 根据材料, 指出材料一、二、三分别指什么历史事件? (3 分)

(2) 根据材料, 结合所学知识指出, 材料一所反映的历史改革中最能体现其性质的是哪一内容? (2 分) 最具前瞻性的是哪一措施? (2 分)

(3) 材料二中阻碍俄国发展的“这种制度”指的是什么? (2 分) 针对材料三中的情况, 是谁领导人民解决了矛盾? (2 分) 他通过哪两个文件扭转了战局? (2 分)

(4) 以上三国的崛起之路对我国现代化建设有什么启示? (2 分)

26. 阅读下列材料, 回答问题。

材料一 “英国水力资源并不丰富, 只有在彭奈思山脉和苏格兰—威尔士一带, 才有河流湍急的地方, 其余地区的河流流速缓慢, 不足以作为工厂的动力……所以动力问题, 又成为摆在人们面前的急迫的问题。”


——吴于廑、齐世荣《世界史》

材料二 第二次工业革命期间, 科学技术突飞猛进, 新技术、新发明、新理论层出不穷。电灯亮起来了, 电话响起来了; 内燃机取代蒸汽机, 交通运输飞速发展。……人类进入了工业文明的新时代。

材料三

主要资本主义国家工业年平均增长率(%)				
	英国	美国	法国	德国
1861—1873 年	3.3	5.0	未统计	3.8
1874—1890 年	1.7	5.2	2.1	3.5
1891—1900 年	1.6	3.5	2.6	4.8
主要资本主义国家夺得的殖民地面积(平方英里)				
1884—1900 年	英国 370 万	美国(未统计)	法国 360 万	德国 100 万

材料四



烟囱林立(漫画)



石油枯竭(漫画)

请回答:

(1) 哪一技术创新成功解决了材料一中所提及的“摆在人们面前的急迫的问题”? (2 分) 这一创新给人类带来什么影响? (2 分)

(2)材料二中,“电灯亮起来了,电话响起来了”说明人类已进入了什么时代?(2分)请列举出第二次工业革命中“交通运输飞速发展”与化工方面的新成果各一项。(2分)

(3)根据材料三并结合所学知识,指出19世纪末20世纪初主要资本主义国家经济政治发展的特点。(2分)这种特点最终导致了什么严重的后果?(2分)

(4)材料四反映了什么问题?(1分)我们该如何应对?(2分)

四、探究题(14分)

27. 思想解放是人类文明发展史的重要组成部分,请结合所学知识探究回答下列问题:

(1)14—16世纪,地中海区域新兴的资产阶级发起了一场崭新的、提倡以人为中心的文化运动,请指出这场运动的名称。(1分)这场运动首先从哪个国家开始?(1分)这是一场需要巨人而且产生巨人的运动,请列出其中的一个巨人。(2分)

(2)为资产阶级革命奠定思想理论基础的是哪一次思想解放运动?(2分)请概括其中一位思想家的思想主张。(2分)

(3)马克思主义诞生的标志是什么?(2分)“无产阶级进行了建立政权的第一次伟大尝试”是指什么?(2分)

			文字告示
--	--	--	------

(4)综上所述,概括指出思想解放对社会变革的作用。(2分)

